

COLEGIO: _____

NOMBRE: _____

- 1 Observa el siguiente número:

407

¿Cómo se escribe en palabras?

- A) Cuarenta y siete.
- B) Cuatro cero siete.
- C) Cuatrocientos siete.

- 2 Observa la siguiente secuencia:



¿Qué número viene en la tarjeta?

- A) 242
- B) 243
- C) 283

- 3 Observa la siguiente descomposición:

$$8U + 3C + 4D$$

¿A qué número corresponde?

- A) 834
- B) 384
- C) 348

4 Resuelve:

$$28 + 13 =$$

- A) 311
- B) 41
- C) 31

5 En un bus van 33 pasajeros y en la siguiente parada suben 7 pasajeros más.

¿Cuántos pasajeros hay en el bus?

- A) 30
- B) 37
- C) 40

6 En un bosque del sur había 54 árboles pero se quemaron 9 árboles en un incendio.

¿Cuántos árboles **no** se quemaron?

- A) 63
- B) 45
- C) 44


7 Lucía tiene 50 años y su hermano 23 años.

¿Cuántos años más tiene Lucía que su hermano?

- A) 27
- B) 33
- C) 73

- 8 La profesora de Manuela le pide que ordene 4 cajas de lápices de mayor a menor cantidad.

De las siguientes opciones, ¿cuál está ordenada como lo pidió la profesora?



- 9 Francisco debe comprar 3 gomas de borrar que valen \$90 cada una.

De las siguientes cantidades, ¿cuál es la más cercana para comprar las gomas?



- 10** Un vendedor de muebles anotó en su libreta las sillas y mesas que vendió, pero una mancha de café borró una parte, como lo muestra la siguiente imagen:



¿Cuál es la cantidad de sillas que vendió?


- A) 76
- B) 52
- C) 43

- 11** Observa:


$$15 < 32$$

Cuál de las siguientes balanzas representa esta desigualdad?

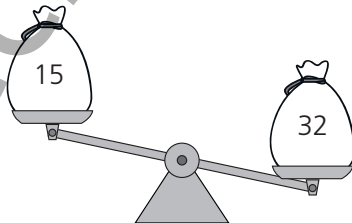
A)



B)



C)



- 12** Un libro tiene un dibujo cada 3 páginas. La siguiente secuencia muestra los números de páginas que tienen dibujos:

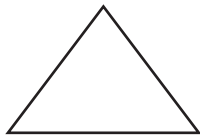
45 , 48 , _____ , 54 , 57

¿Cuál es el número que falta en la secuencia?

- A) 49
- B) 50
- C) 51

- 13** ¿Cuál de las siguientes figuras tiene líneas curvas?

A)



B)



C)

